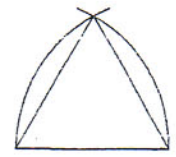
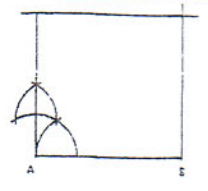




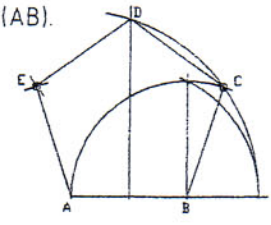
Construcció d'un triangle equilàter coneixent el seu costat.



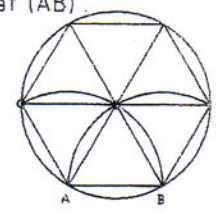
Quadrat coneixent el seu costat (AB).




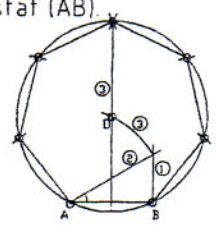
Pentàgon coneixent el seu costat (AB).



Hexàgon regular coneixent el seu costat (AB).



Heptàgon regular coneixent el seu costat (AB).



Octògon regular coneixent el seu costat (AB).

